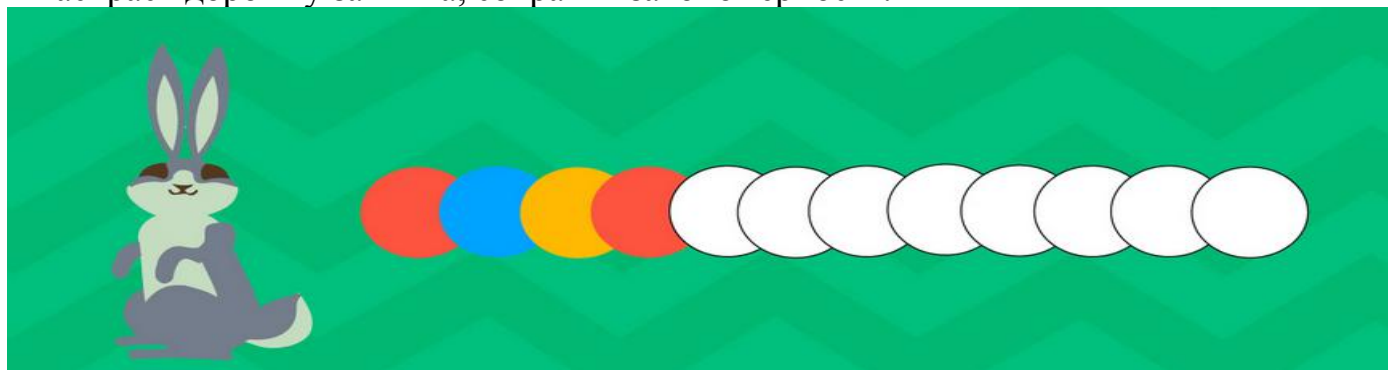
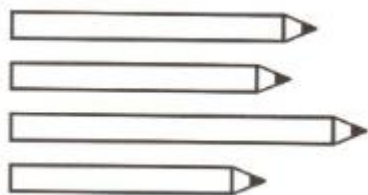


## Диагностическое оценивание №1

1 Раскрась дорожку зайчика, сохраняя закономерность.



2 Рамкрась самый длинный карандаш.



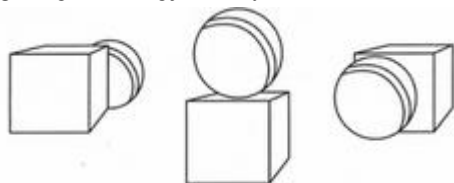
3 Раскрась третий мяч красным цветом, а пятый - синим, считая мячи слева направо.



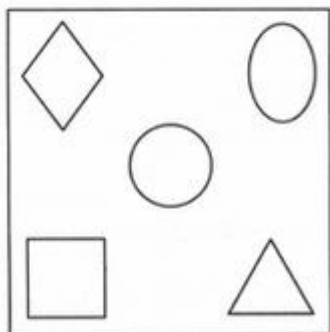
4 Нарисуй:



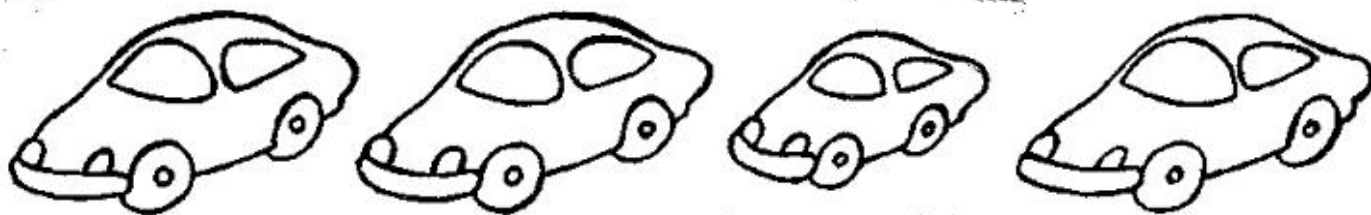
5 Раскрась мяч, который перед кубиком, в синий цвет, за кубиком - в красный, на кубике - в жёлтый.




6 Раскрась фигуру, которая нарисована в верхнем правом углу квадрата, в синий цвет; в верхнем левом углу - в красный; в нижнем левом - в зелёный; в нижнем правом - в коричневый; в центре - в жёлтый.



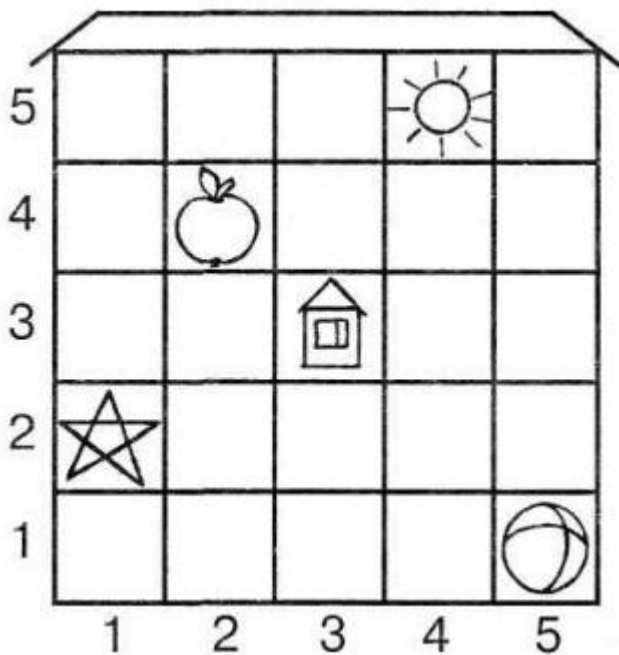
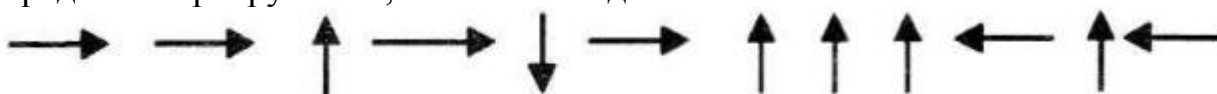
7 Раскрась большие машины так, чтобы маленькая машина была между красной и синей, а зелёная была рядом с красной.



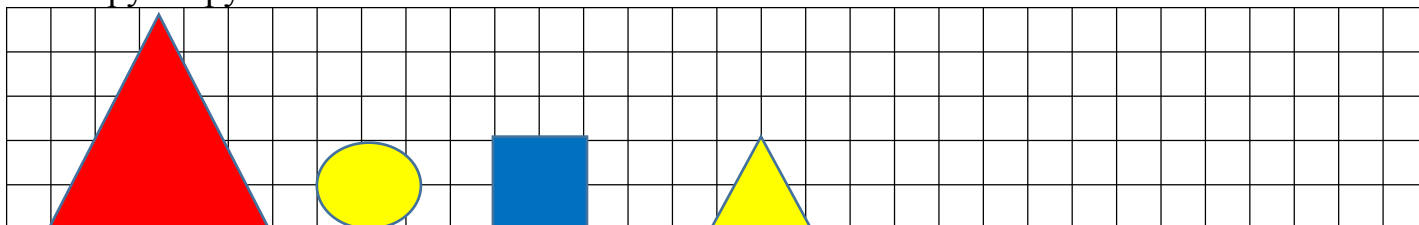
8 Нарисуй круг справа от квадрата, но слева от треугольника.



9 Определи квартиру Жени, выполнив ходы:



10 Сгруппируй:



По цвету


По форме


По размеру
