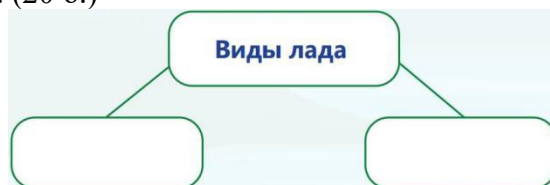


## Малое суммативное оценивание №5

Дата

И.Ф.

1. Впиши виды лада. (20 б.)



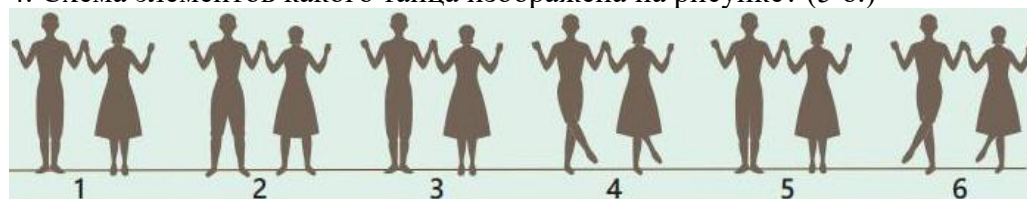
2. Установи соответствие, вписав в пустые графы следующие понятия: минорный лад, мажорный лад. (15 б.)

Обычно передают весёлое, энергичное, торжественное и шутливое настроение.	Обычно передают грустное, спокойное, задумчивое, обиженное настроение.
---	--

3. Чередование ударных и безударных звуков в определённом порядке называется ... . (10 б.)

- А) мажорным ладом
- Б) музыкальным размером
- В) силой звука

4. Схема элементов какого танца изображена на рисунке? (5 б.)



- А) Яллы
- Б) Джанги
- В) Памбыгы

5. Из чего состоит музыкальный язык? (5 б.)

- А) из слогов
- Б) из слов
- В) музыкальных звуков

6. Припев какой песни дан ниже? (5 б.)

Припев

Şarım qalxdı havaya,  
Salam apardı Aya.  
Şarım qalxdı havaya,  
Salam apardı Aya.

- А) Гвоздика
- Б) Красный шар
- В) Новрузу

7. Установи соответствие между динамическими оттенками и их значениями. (15 б.)

форте	тихое звучание
пиано	громкое звучание

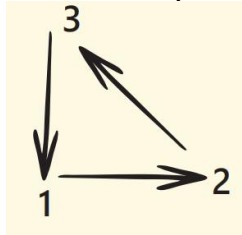
8. Выбери верное определение динамики. (10 б.)

- А) Динамика – средство музыкальной выразительности, передающее силу звука.
- Б) Динамика – это средство музыкальной выразительности, которое отражает настроение музыки.
- В) Динамика – скорость исполнения музыкального произведения.

9. Кто является автором песни “Птицы”? (10 б.)

- А) Муса Мирзоев
- Б) Фикрет Амиров
- В) Гамбар Гусейнли

10. Что изображено на картинке? (5 б.)



- А) схема элементов танца
- Б) ритмический рисунок песни
- В) схема дирижирования